

మోడల్ పేపర్

సర్వ శిక్షా అభియాన్ - ఆంధ్రప్రదేశ్

సంగ్రహణాత్మక మదింపు - I (2014-2015)

1వ తరగతి - గణితం

విద్యార్థి పేరు :

సమయం : 2 గంటలు

రోల్ నెంబరు :

మార్కులు : 50

విద్యా ప్రమాణాలు	సమస్య సాధన		కారణాలు చెప్పడం నిరూపణలు చేయడం		వ్యక్తపరచడం		అనుసంధానం		ప్రాతినిధ్యపర్చడం		మొత్తం	
	రాత	మౌఖిక	రాత	మౌఖిక	రాత	మౌఖిక	రాత	మౌఖిక	రాత	మౌఖిక	రాత	మౌఖిక
ప్రశ్నల క్రమ సంఖ్య	1 - 5	8	-	9	6	-	-	10	7	11	7	4
కేటాయించిన మార్కులు	20	5	-	5	5	-	-	5	5	5	30	20
సాధించిన మార్కులు												
గ్రేడు												

I. సమస్య సాధన (20 మార్కులు)

1. బొమ్మలు చూడండి, లెక్కించి, గళ్లలో సరైన సంఖ్య రాయండి.

a) $\boxed{HH} + \boxed{HHH} + \boxed{HHHH} = \boxed{}$

$\boxed{2} + \boxed{3} + \boxed{4} = \boxed{}$

2 మార్కులు






b) $\boxed{} + \boxed{HHH} = \boxed{HHHHHHHH}$

$\boxed{} + \boxed{3} = \boxed{8}$

3 మార్కులు

2. లెక్కించండి సంఖ్యను రాయండి.

5 మార్కులు





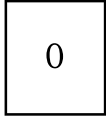

3. కింది వరుసలలోని ఖాళీలలో సరైన సంఖ్యలు రాయండి. (2 1/2 మార్కులు)

9	8							1
---	---	--	--	--	--	--	--	---

4. జతపరచండి. (1 × 5 = 5 మార్కులు)

7+2	8
1+5	6
2+6	5
3+2	4
2+2	9

5. బొమ్మలను లెక్కించండి. మొత్తాన్ని రాయండి. (2 1/2 మార్కులు)

	+		=	
	+		=	

II. వ్యక్తపరచడం (5 మార్కులు)

6. ఎ. 7,5,9,8 లలో అన్నింటి కన్నా పెద్దసంఖ్య రాయండి. (1 మార్కు)

- బి. 3కి 5 ని కలిపినా 8 వస్తుంది దీనిని గణిత వాఖ్యంగా రాయండి. (1 మార్కు)


- సి.  మొత్తం ఎన్ని తెల్పండి. (2 మార్కులు)

- డి. 6,5,8,2,4 లలో చిన్న సంఖ్య రాయండి. (1 మార్కు)

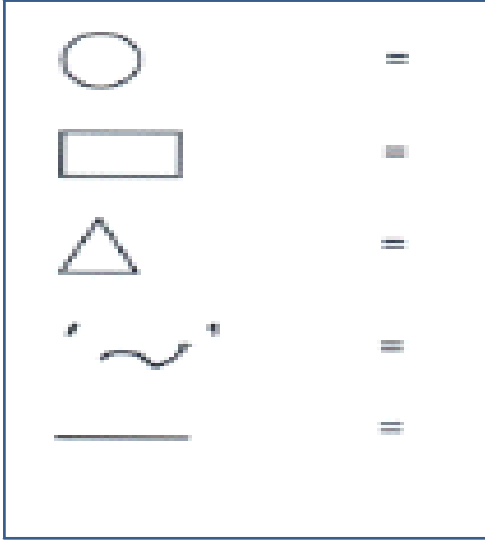
III. ప్రాతినిధ్య పర్చుట

(5 మార్కులు)

7.



పై బొమ్మను గమనించి, సంఖ్యను రాయండి.



మాఖిక పరీక్ష (20 మార్కులు)

I. సమస్య సాధన

(5 మార్కులు)

8). ఎ. 6 తరువాత వచ్చే సంఖ్య ఏది

(1 మార్కు)

బి. రాజు వద్ద 7 గోళీలు ఉన్నాయి వాళ్ళు చెల్లి దగ్గర 2 గోళీలు ఉన్నాయి. ఇద్దరి వద్ద ఉన్న మొత్తం గోళీలు ఎన్ని?

(2 మార్కు)

సి. 4,6 మధ్యగల సంఖ్య ఏది

(1 మార్కు)

డి. 3 సంఖ్యకు మందు సంఖ్య ఏది

(1 మార్కు)

II. కారణాలు చెప్పడం - నిరూపణలు చేయడం.

(5 మార్కులు)

9) ఎ. 2 ఎంత కలిపిన 2 వచ్చును?

బి. 2,6 లలో పెద్ద సంఖ్య

సి. 3,4,5, తరువాత సంఖ్యలు రాయండి.

డి. 1,9 లలో చిన్నసంఖ్య

ఇ. 2, 4 ల మధ్య వచ్చే సంఖ్య?

III. అనుసంధానం

(5 మార్కులు)

10) బంతిని పొలిన్ 5 వస్తువుల పేర్లు చెప్పండి.

IV. ప్రాతినిధ్య పరచడం

(5 మార్కులు)

11) 1 వ తరగతి గణితంలోని 44 పేజిలోని చొమ్మి చూపి, ప్రశ్నలను అడగండి.